

Hauts de Flandre

OFFICE DE TOURISME



Salut ! Je m'appelle **Louise**.

Aide-moi à répondre aux questions grâce aux indices que tu trouveras en visitant le village.
Observe bien et pars à l'**aventure** !



www.hautsdeflandre.fr

En...quête
des Hauts de Flandre
N°1

www.cchf.fr

CCHF
Communauté de Communes
des Hauts de Flandre



Le parcours :

Bambecque

1,9 km


Départ : parking de l'église

Face à l'église, dirige-toi vers la gauche pour prendre la rue de l'église. Prends à droite la rue des ifs. Continue à droite sur la route de Rexpoëde.

Tourne à gauche pour suivre la rue principale. Au rond-point, suis la route d'Herzelee. Fais demi-tour et entre dans le lotissement de l'Yser pour parcourir la rue du teillage. Emprunte l'impasse du lin sur ta gauche et rejoins le chemin à gauche qui te mènera à l'école Saint Joseph et la place du Jeu de Paume.

Reprends la rue principale à gauche et poursuis sur la route de West Cappel. Entre dans la rue de la gare.

Fais demi-tour et tourne à gauche pour emprunter la rue des ifs et la rue de l'église pour rejoindre ton point de départ.

 Pour réaliser ce rallye, les enfants doivent obligatoirement être accompagnés d'un adulte. Le parcours vous fera, parfois, emprunter des routes à circulation et sans trottoir. Vous devez donc circuler de manière prudente sur le côté gauche de la chaussée pour voir et être vu. La CCHF ou l'OTI déclinera toute responsabilité en cas de problème.

Le saviez-vous?

Bambecque

On peut expliquer la signification de ce nom par "ban", un territoire protégé par une disposition spéciale et "becque", un ruisseau ; autrement dit un territoire protégé par un ruisseau.



L'église St Omer : l'impression générale est un espace très large, presque carré, densément meublé. L'église St Omer est entourée du traditionnel enclos paroissial, un cimetière bordé de tilleuls. Elle fut rebâtie en 1591 (date visible sur l'arc diaphragme du vaisseau sud) car l'église primitive du Moyen-Age fut « pillée ravagée et en partie détruite par les réformateurs appelés gueux des bois le 27 janvier 1568 ».

Dans un domaine privé, à l'abri des regards, on aperçoit le manoir de l'Ingels'hof, un joli manoir qui date de 1777. Il est baigné par l'Yser. De plan rectangulaire, le château s'élève sur deux étages couronnés d'un toit à 4 pentes qu'éclaircit d'importantes lucarnes.



L'Yser longe la limite sud du territoire de Bambecque. C'est un petit fleuve côtier d'une longueur de 78 km (30 km en France et 48 km en Belgique). Il a toujours eu un rôle important dans l'histoire du Westhoek. Ce fut la voie d'accès pour les Vikings au IX^{ème} siècle, celle des Anglais au XIV^{ème} et XV^{ème} siècles, la voie de retraite des gueux au XVI^{ème} siècle, la ligne de démarcation entre les catholiques et les protestants au XVI^{ème} siècle et celle des Belges et des Allemands durant la 1^{ère} Guerre Mondiale.

À côté des voies principales de chemins de fer, on créa les lignes d'intérêt local : un chemin de fer secondaire. Elles seront bien sûr présentes dans les campagnes flamandes. Très rapidement 4 lignes à voies étroites sont retenues dont celle concernant Bambecque...



Face à l'église, dirige-toi vers la gauche pour prendre la rue de l'église.

1 L'église de Bambecque est dédiée à Saint Omer. Mais comment la désignait-on jadis ?



Prends à droite la rue des ifs.

2 Quelle marque symbolisant la Flandre peux-tu voir sur la façade de la maison N° 4 ? Entoure la bonne réponse.



Un lion



Un coq



Un lys

Continue à droite sur la route de Rexpoëde.

3 Reproduis les dessins que tu vois sur le mur de la sacristie.



4 Quelles dates sont inscrites sur le mur de l'église ?



Tourne à gauche pour suivre la rue principale.

5 Quelle est la forme du fer d'ancrage utilisé pour contenir l'écartement des murs sur la maison N° 37 ? Entoure la bonne réponse.






6 Décode ce message et tu trouveras la signification de ce panneau.



A B C D E F G H I J K L M N O P Q R S T U V W X Y Z
& # @ ! * \$ } ? = + □ ○ △ ◇ ◊ ☆ ✦ ✧ ✨ ☆ ♥ ♣ ♠

& ☆ # * ✦ } * ! * ○ & \$ □ ✦ } *
↙

7 Entoure la forme des volets de la maison N° 25.



8 Sur la façade de la maison N° 28, des outils sont incrustés dans le mur. Tu peux voir un marteau, une équerre.... et un autre outil. Résous cette charade pour connaître son nom.

Mon premier est utilisé par la couturière pour coudre un bouton.

Mon second est la 6^{ème} note sur une portée de musique.

Il faut rajouter un « P » au contraire de court pour trouver mon quatrième.

Mon tout permet de vérifier la verticalité des murs



Au rond-point, suis la route d'Herzelee.

9 Quels dessins maçonniques (symbole d'amour) retrouves-tu sur le pignon (mur) de la 1^{ère} maison sur ta droite ? Entoure la bonne réponse.



Des trèfles




Des piques




Des coeurs

10 Comment s'appelle la partie au-dessus de la porte de garage de la maison N°5 qui permet d'avoir de la clarté ? Résous ce rébus pour le savoir.

1



t'



11 À quoi servent les ouvertures, appelées des soupiraux, sur la partie basse de la maison N° 5 (une ancienne brasserie) ? Entoure la mauvaise réponse.



Donner de la clarté dans les caves



Abriter le chien



Aérer les caves

12 Comment s'appelle cet édifice ? Entoure la bonne réponse.



une chapelle



un château



une chaloupe





Fais demi-tour et entre dans le lotissement de l'Yser pour parcourir la rue du teillage.

13

La grande perche que tu aperçois (en face avant de poursuivre la rue du teillage par la droite) est utilisée pour la pratique du tir à l'arc sur perche verticale, un sport traditionnel flamand. Le but est d'éjecter, à l'aide d'un arc et des flèches, des cylindres ornés de plumes tricolores qui sont placés au sommet de ce mât vertical (qui culmine à une trentaine de mètres !).

Comment appelle-t-on ces cibles ? Aide Louise à retrouver l'autre nom de la cible en parcourant le labyrinthe et entoure la bonne réponse.



Emprunte l'impasse du lin sur ta gauche et rejoins le chemin à gauche qui te mènera à l'école Saint Joseph et la place du Jeu de Paume.

14

Cet arbuste est très utilisé pour former les haies dans notre région. Voici quelques informations à son sujet qui pourront te montrer son importance. Devine les lettres manquantes pour retrouver son nom et replace-les sur les tirets !!



Cette essence est tout comme la Fl__ndre, à la fois rude et combative, verdoyante et éclatante, parfumée et bienfaisante.

C'est un arb__ste buissonnant, symbole de nos haies flamandes. Il a les__ranches hérissées de longues épines ce qui lui doit son nom flamand (haghedorne : hag=haie, dorne=épine).

Cet arbuste aux __pines acérées forme de très efficaces haies défensives. Son bois dur et de teinte rougeâtre convient à la fabrication de manches d'outils. Les boulangers d'antan chauffaient leur four avec des fagots de ce bois. Les oiseaux l'ap__récient aussi car ces haies leur procure un abr__ où ils peuvent nidifier sans crainte des prédateurs et ses fruits leur donnent les vitamines indispensables pour affronter les rigueurs de l'hiver.

Mais les qualités de cet arbuste ne s'arrêtent pas là : dès le premier siècle de notre ère, le médecin grec Dioscoride mit en évidence ses vertus thérapeutiques.

Mais ses vertus ne sont pas que médicinales : pour le peuple celte, il s'agissait d'un arbre sacré dont la destruction présageait une catastrophe imminente pour son auteur. C'est aussi un symbole de bonh__ur, de prospérité et de fidélité. Le chevalier avant de partir en croisade offrait à sa mie (sa bien-aimée) un bouquet de cet arbuste signifiant qu'il lui resterait fidèle durant son absence.



15 Quand a été construite la maison paroissiale ?
(C'est la plus ancienne maison du village)



! Le jeu de paume est un sport pratiqué en Europe depuis l'Antiquité et ayant connu son âge d'or du XIV^e au XVIII^e siècles. D'abord pratiqué à main nue ou gantée de cuir, il est devenu par la suite un sport de raquette. Il est l'ancêtre direct du tennis.

Reprends la rue principale à gauche ...

16 Comment s'appelle l'élément qui trône sur le toit de la mairie, qui permet d'avertir la population d'un danger grave, imminent ou en cours ? Entoure la bonne réponse.



Une sirène




Une cloche



Une antenne

17 En quelle année a été construite la maison N°66 (maison natale du missionnaire Rémi Isoré) ?



18 Le propriétaire de la maison N° 1 a exposé une drôle de pierre provenant d'un moulin du village situé sur le n'hey (la colline). Grâce au mécanisme du moulin, elle tournait sur une autre « pierre » fixe, appelée « dormante » pour moudre le grain. Comment appelle-t-on cette pierre ?



19 Les pignons (murs) de la maison N°2 sont plus hauts que le toit. À ton avis pourquoi ? Entoure la bonne réponse.



Pour faire beau



Pour empêcher que le vent s'engouffre sous les tuiles



Pour utiliser toutes les briques



20

Attention, deux « uyen » t'observent. De quoi s'agit-il ? On dit souvent que sa femme, elle est chouette !

↪ DEUX ■ X

Entre dans la rue de la gare.

21

Le petit train des Flandres passait jadis par Bambecque. Et qui dit train, dit gare. Mais où est-elle ? Observe les maisons et retrouve le N° de celle qu'on a construit en agrandissant la gare.



Fais demi-tour.

↪ N°

22

La maison N°14, cossue, de construction soignée datant de la Flandre du XVIII^{ème} siècle donne une impression de richesse passée. En effet, les maçons employés pour la construction de cette habitation ont pu démontrer leur savoir-faire. Mais de quelle manière ? Entoure la bonne réponse.



En peignant les murs en gris



En taguant les murs



En mariant des briques de couleurs différentes

Tourne à gauche pour emprunter la rue des ifs...

23

Comment s'appelle ce petit sillon qui permet l'écoulement de l'eau ? Remets les lettres dans le bon ordre pour le retrouver. Petit indice, le mot est issu du latin regula « règle ».

↪ G I R O L E



24

Comment s'appelle cet arbuste qui garde ses feuilles en hiver ?
Remplace les nombres par des lettres en fonction de leur position dans l'alphabet pour le trouver.



3 8 1 18 13 5

25

Comment sait-on que la maison N°7 est typiquement flamande ?
Remplace les mots à la bonne place pour connaître ses petits détails.

Colombages-Date- Extension-Jardinet

Sa _____ de construction est dessinée sur son pignon (1912).

Elle a gardé ses _____ (bois dans la façade) entre lesquels on insère les briques.

Son _____ est accolée au pignon.




Un _____ séparé d'une allée centrale égaye la façade de la maison.

...et la rue de l'église pour rejoindre ton point de départ.



26

Cet espace fleuri est appelé l'Yserhof. Mais qu'est-ce que cela signifie ?
Trie les dessins par ordre croissant pour le découvrir.
Petit indice : la traduction est en 3 mots.




DE L'YSER

27

En reportant les lettres colorées, devinées au fil de cette aventure, tu trouveras le nom d'un animal très important dans l'industrie du drap.






LES COURS D'EAU

29

Reporte les mots dans la grille.



BECQUE
CAVEL
CANAL
DELTA
DYCK
EAU
ETANG
FLEUVE
FOSSE
GRACHT
MARAIS

MER
OUED
POLDER
RAVINE
RIGOLE
RIVIERE
RUISSEAU
RUISSELET
TORRENT
VLIET
WATERINGUE

RETANG
ZTFZF
ZYOWENQ
AWCM
UZNT
PSLFLG
JLCSERCE
ITVSABLYS
OETCCECP SK
NECHXSO RN
IYUTQWLCV DTNX
VYUGNEDVSX CEXWM
AVNYPHEDOW S UWUF
RZKDRBRAMH COZUYM
CANALHDFOSSEMHC EZUYM
ZTORRENTZBIVHQF
CKKNB
XS
J

RUISSELET CRHXN MERA OVXJADMARAI SCLJS
LUPPJLZUVKISOS CJABBF EZDSOYIMCEILUM
FLEUVEOYRVFTEIJETW GROJVQVCM LCSFMG
GKIHCIDNGISOUZCCHZOAWSRIAJOHSLPM
YVIO SETCLQ ZDQEVCGV YOQH A
QH EVU RHFU ZQD ZRECIT VPL WVQD
SAROG G T A M EPE BE T ELJRT MTJ LTPND
GCAER QCXK CGRED ULH MXXOVT FXAC LAUBH
VNVF ODYCKT YTWSV HEORM FZ
QCGZUJHXKAWQCWJMCACOKHVNZZEPYYESCODFZBT
GFGRUISSEAU CNXLFSPIOME WATERINGUE OOVLIET

découvre les solutions en scannant le QR code !

