

# Hauts de Flandre

OFFICE DE TOURISME



Salut ! Je m'appelle **Léo**.

Aide-moi à répondre aux questions grâce aux indices que tu trouveras en visitant le village.

Observe bien et pars à **l'aventure !**



# Oost-Cappel

1,8 km



## ✕ Départ : ➔ Rue de l'église (place de la mairie)

Prendre la rue de l'église. Au bout de la rue, tourne à gauche sur la rue Casselstraat. Continue rue Mitoyenne.

Prends ensuite la route de l'Europe.

Avant le N°38, emprunte le chemin pour contourner le terrain de sport. Rejoins la route de l'Europe par la droite. Continue jusqu'à la mare pédagogique. Fais-en le tour et reprends la route de l'Europe pour rejoindre ton point de départ.



! ! !  
Pour réaliser ce rallye, les enfants doivent obligatoirement être accompagnés d'un adulte. Le parcours vous fera, parfois, emprunter des routes à circulation et sans trottoir. Vous devez donc circuler de manière prudente sur le côté gauche de la chaussée pour voir et être vu. La CCHF ou l'OTI déclinera toute responsabilité en cas de problème.

# Le saviez-vous??

## Oost-Cappel

Nom d'origine flamande, Oost signifie « est » et cappel, « chapelle » : donc chapelle de l'est.

Ce nom vient de sa position par rapport au village de Rexpoëde. Pour ton information, il existe une commune qui s'appelle, West Cappel, qui est à l'opposé de Oost-Cappel (toujours par rapport à Rexpoëde) mais tu en sauras plus dans une autre aventure...



**L'église Saint Nicolas** est composée de 2 nefs. Elle est visible de loin grâce à son clocher à la charpente polygonale ! Remarque également que sa façade est en grès alors que le reste de l'édifice est en briques.

En août 1773, Oost-Cappel, fut le terrain d'affrontements entre l'armée française et l'armée des puissances coalisées contre la France (la Grande Bretagne et le Saint Empire Germanique). Les troupes françaises qui stationnent à Oost-Cappel (ainsi que dans les villages avoisinants comme Rexpoëde, Hondschoote, Killem...) avaient pour mission de protéger Bergues et surtout Dunkerque et empêcher son siège.



Ce furent les prémices de la bataille d'Hondschoote (septembre 1793) qui permirent de libérer Dunkerque du siège débuté par les Anglais. Oost-Cappel sera au cœur de la bataille le 6 septembre 1793.



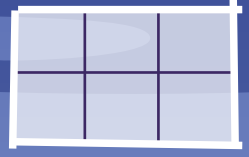
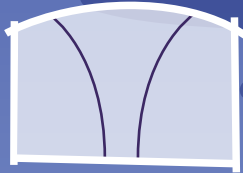
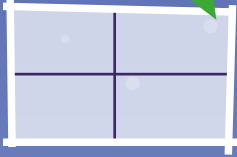
**La mare pédagogique** : historiquement, il s'agissait de 3 mares de ferme. Deux d'entre elles ont été creusées en un étang et la 3<sup>e</sup> conservée, afin de devenir un lieu d'accueil pédagogique.

**La station d'épuration naturelle** : cette station d'épuration a été mise en service en octobre 2013 pour traiter les eaux usées de la commune, avant leur rejet au milieu naturel. Cette station succède à un procédé naturel composé de 2 bassins.

# ✖ Départ : Rue de l'église (place de la mairie)

1

Quelle forme a l'imposte (la « fenêtre ») au-dessus de la porte de la maison N°1 ? Entoure la bonne réponse.



## Prendre la rue de l'église.

2

De combien de pans est composé le clocher de l'église ? Entoure la bonne réponse.



4



5



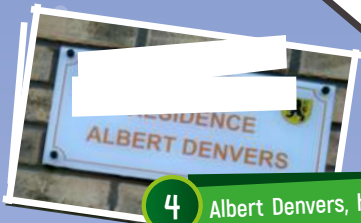
8



3

Certaines lettres ont disparu. Saurais-tu les retrouver ?

\_\_\_\_\_  
\_\_\_\_EVANT \_\_EPOSE LE \_\_ORPS  
\_\_U \_\_IEUR \_\_RANÇOIS \_\_THANASE  
\_\_EVICK EN \_\_ON \_\_IVANT \_\_ÛRE DE \_\_ETTE  
\_\_AROSSIE \_\_'OOSTCAPPEL. \_\_ENDANT \_\_'ESPACE  
\_\_E 19 ANS \_\_ATIF DE \_\_UNKERQUE  
\_\_ÉCÉDÉ LE 5 \_\_UILLET 1790 AGE  
\_\_E 73 ANS  
\_\_esquiescant In Pace



4

Albert Denvers, homme politique très important qui a été très impliqué pour le développement économique de notre région est mis à l'honneur à Oost-Cappel. Mais pourquoi ? Entoure la bonne réponse.



Il est né à  
Oost Cappel



Il a le record  
du monde  
du saut à  
l'élastique



Il a gagné le  
marathon  
de New York

Au bout de la rue, tourne à gauche sur la rue Casselstraat. Continue Rue Mitoyenne.

5 La Casselstraat signifie « rue de Cassel » mais attention c'est la version néerlandaise car la rue est mitoyenne avec le pays voisin (la Belgique) qui parle le Néerlandais entre autres. Grâce au code, retrouve la version flamande.

A B C D E F G H I J K L M N O P Q R S T U V W X Y Z  
 & # @ ! \* \$ } ? = + □ ○ △ ◇ ⇨ ⇩ ☆ ✦ ⇧ ⇨ ☆ ♥ ♣

@ & ⇧ ⇧ \* ○ ⇧ ⇩ ✦ & \* ⇩ \*



\_\_\_\_\_

6

L'agriculture est très présente en Flandre. Relie les différentes cultures à son produit fini.



7

Observe cette pierre située au pied du mur. Nos ancêtres avaient trouvé cette astuce pour empêcher la détérioration des murs lors des passages des charrettes à cheval. Elle remettait « dans le droit chemin » le véhicule. Résous ce rébus pour connaître son nom.



\_\_\_\_\_

8

Quelle est la distance de la LF1 ? Cette route balisée permet aux cyclistes de sillonner plusieurs pays. Entoure la bonne réponse.



48 km



480 km



4800 km



9

La statue qui est placée devant la guérite rappelle une profession. Mais laquelle ? Résous cette charade pour la retrouver.

En effet, auparavant les pays étaient délimités par des frontières. Des guérites avec des barrières marquaient la limite entre les pays et les agents contrôlaient le passage.

Mon premier est le masculin de « douce ».

Mon second est un animal tête.

Mon troisième est construit dans les arbres par les oiseaux.

Mon quatrième est la terminaison des verbes du 1<sup>er</sup> groupe.

Mon tout est une profession.



Prends ensuite la route de l'Europe.

10

Le drapeau européen est le symbole de l'Union Européenne et, plus largement, de l'identité et de l'unité de l'Europe. Il est constitué d'un cercle de douze étoiles dorées sur fond bleu. Les étoiles symbolisent les idéaux d'unité, de solidarité et d'harmonie entre les peuples d'Europe. Le nombre d'étoiles n'est pas lié au nombre d'États membres, bien que le cercle soit symbole d'unité. En effet, beaucoup pensent que le nombre d'étoiles correspond au nombre de pays de l'Union Européenne : il y aurait 12 étoiles parce qu'il y a 12 pays dans l'Union européenne. Ce n'est pas possible, parce qu'il y a aujourd'hui 27 pays dans l'Union Européenne et les étoiles sur le drapeau sont pourtant toujours au nombre de 12. Mais pourquoi ce nombre ? Qu'est-ce qu'il symbolise ? Déchiffre le code A=1 - B=2...



16 5 18 6 5 3 20 9 15 14



11

Observe le toit de la maison N°12. Il est couvert sur le haut de son toit d'une rangée de ferrures. Mais pourquoi ? Entoure la bonne réponse.



Empêcher les oiseaux de se poser sur le toit



Lester les faitières pour éviter qu'elles ne s'envolent à la moindre tempête



Terminer la toiture d'une jolie manière

12

Quelle ville se situe à 7 km d'Oost-Cappel ?



13 Comment s'appelait l'établissement au N°21 ? Entoure la bonne réponse.



Au grand chêne



Au grand tilleul



Au grand marronnier

Avant le N°38, emprunte le chemin pour contourner le terrain de sport.

14 Quel bâtiment a-t-on baptisé Gérard Devulder ?



15 Comment s'appellent ces grands arbres ? Entoure la bonne réponse.



Pilier



Palier




Peuplier




Rejoins la route de l'Europe par la droite.

N  
OIL

16 Quel animal est représenté sur la façade de la maison N°5 ? Remets les lettres dans le bon ordre pour le retrouver.



17 Comment s'appelle cet ouvrage fortifié, chargé de défendre et qui est à l'épreuve des tirs ennemis ? Aide Léo à retrouver son chemin pour rejoindre sa maison.



Continue jusqu'à la mare pédagogique. Fais-en le tour...

18

Cet arbre que l'on retrouve auprès des étendues d'eau a un drôle de nom. Mais lequel est-ce ? Entoure la bonne réponse.



Arbre têtard



Arbre fêtard



Arbre motard



\_\_\_\_\_

19

Comment s'appelle cet espace Nature ?



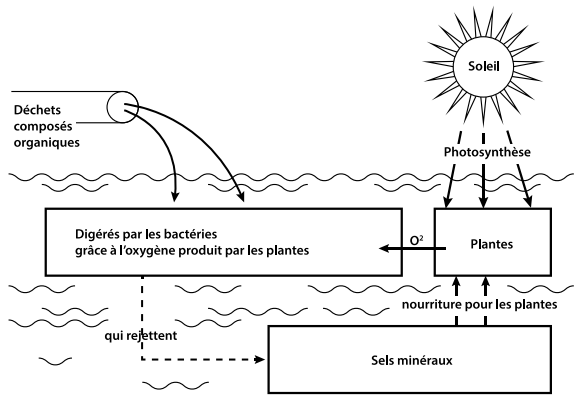
\_\_\_\_\_

20

Derrière ces arbres est implantée une station d'épuration qui remplace un ancien procédé de traitement de l'eau. Arrêtons-nous un instant pour en apprendre davantage sur ce procédé et découvrir son nom en retrouvant les lettres manquantes. Remplace les lettres sur les tirets au fur et à mesure que tu les trouves.

C'est un moyen origina\_\_ de traitement de ses effluents (les e\_\_ux usées) : il s'agit d'une méthode d'épuration telle qu'on la trouve naturellement dans les cours d'eau. Il a surtout l'avanta\_\_e de fonctionner de façon entièrement nat\_\_elle : c'est la nature qui seule, élimi\_\_e les déchets.

Le procédé est aisé \_\_ comprendre : il se déroule simplement, bien que la procédure soit complexe. En la voyant fonctionner, on ne peut qu'admirer la nature qui est si bien faite. La technique utilisée or\_\_anise et favorise des actions qui se font naturellem\_\_nt.




\_\_\_\_\_



21 Relie le nom des animaux de la mare à leur ombre.

Libellule  
Héron cendré  
Canard  
grenouille



... et reprends la route de l'Europe pour rejoindre ton point de départ.

22 Quel est donc ce petit arbuste au bord de la route ?  
Retrouve les lettres manquantes pour le découvrir.

Arbuste persistant typique des jardins anciens et du style classique, il est connu pour son utilisation en bordure et art topiaire. Il offre une allure reconnaissable quand il est taillé, mais peut aussi se développer en haie haute et champêtre. Son odeur particulière lui a ensuite donné le pouvoir d'éloigner les mauvais esprits dans les coutumes populaires.

23 Ce petit arbuste taillé en forme de boule doit son nom à sa couleur.  
Entoure la bonne réponse et reporte les lettres sur les tirets.



Saule  
myrtille



Saule  
crevette



Saule  
rhubarbe



→ Saule  \_ \_ \_ \_ \_

24 Le propriétaire de la maison N° 23 a peint une frise sur le haut de sa façade.  
Combien de triangles a-t-il peint ? Entoure la bonne réponse.



24



20



16

25 Quel bâtiment a-t-on baptisé Jacques Brel (célèbre chanteur) ?  
 Classe les dessins dans l'ordre décroissant.



E



L



C



E



O



\_\_\_\_\_

26 Qu'est-ce-qu'un fraudeur ? Que fait-il de répréhensible ? La solution est cachée dans ce code.

T12351586454847845R445464687434844654I445544  
 6455C4540684656545H45654745484632E531646




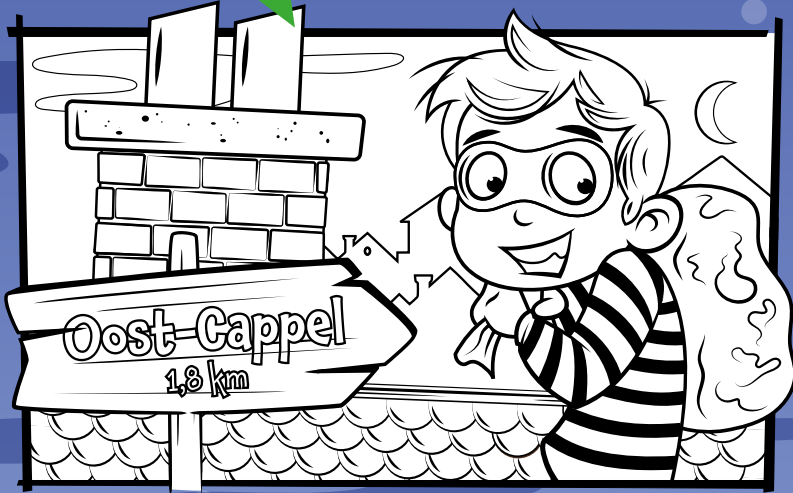
\_\_\_\_\_

27 En reportant les lettres colorées, devinées au fil de cette aventure, tu trouveras le nom des personnes  
 qui traversaient la frontière pour vendre des produits (tabac, vêtement...) alors que cela était interdit.



28

Retrouve les 7 différences entre les deux dessins.



29

Voici des expressions avec des noms d'insectes.  
Sauras-tu les replacer dans les trous ?

Cafard  
Fourmi  
Poux

Faire un travail de \_\_\_\_\_ : faire un travail qui demande beaucoup de patience.

Avoir le \_\_\_\_\_ : être triste, déprimé.

Chercher des \_\_\_\_\_ dans la tête de quelqu'un : importuner quelqu'un pour des problèmes sans importance.

30

Retrouve les mots dans la grille.

S N E  
 A W W B  
 U K G C U  
 L Q O B L S  
 E L U O P X A  
 H I R E S S Y R  
 G R E B E S I D  
 G R E B T B F S  
 S P U R R G S  
 I F E I L  
 X S F T  
 O P D P Q D R O I L  
 Y O F C F J U R D E M I N N S T V  
 S G D P H Z E L L E S I O M E D B Q E  
 H I R O N D E L L E F N Q R G T Z T D  
 L G R E N O U I L L E L C A T I D A J O U Q G  
 F U I Z G B E R R R U J C O G H C D D V  
 D N D L G H N J M H E R O N  
 Q U O S O L O C C R U B I G I K  
 M T T C K E C H E V E C H E  
 E A L O L E P I M A G  
 L U H S H N S C T  
 L U R S J E D D  
 L L C Y E O C J  
 E B E T Q T G  
 I C S T Q E M E  
 L

BUSARD  
 CHEVECHE  
 DEMOISELLE  
 JONG  
 GREBE  
 GRENOUILLE  
 HERON  
 HIRONDELLE

IRIS  
 LIBELLULE  
 MASSETTE  
 NOTONECTE  
 POULE  
 SAULE  
 TETARD  
 TRITON

31

Devinette :

Je n'ai pas de couleur.  
 Je n'ai pas d'odeur.  
 Je prends la forme du récipient dans lequel je me trouve.  
 Qui suis - je ?



\_\_\_\_\_

découvre les solutions en scannant le QR code !

