



Salut ! Je m'appelle **Sarah**.

Aide-moi à répondre aux questions grâce aux indices que tu trouveras en visitant le village.

Observe bien et pars à l'**aventure** !



Herzeele

3,5 km



✕ Départ de la Place

Dos à la mairie, dirige-toi vers la droite et prends la rue de Bambeccque.
Tourne à droite sur la rue de la gare et tourne à gauche sur la rue du petit train.
Tourne à droite rue d'Outkerque.
Poursuis à droite pour suivre la rue de la briqueterie.
Fais demi-tour.

A l'intersection, continue tout droit et emprunte la rue de la caserne des douanes. Au carrefour, prends la rue d'Outkerque à gauche. Continue à gauche pour suivre la rue de Bambeccque et à droite pour aller dans la ruelle du presbytère.

Tourne à gauche sur la rue de la petite maison bleue. Au bout de cette rue pénètre dans le cimetière par l'entrée que tu verras sur la droite et ressors par la ruelle de l'église pour rejoindre la place.

Dirige-toi à droite pour emprunter la ruelle du château.

Au bout de cette ruelle (enherbée sur la fin), reprends la rue de la petite maison par la gauche. A l'intersection, tourne à gauche pour suivre la rue du St Sacrement.

Au stop, continue toujours tout droit pour poursuivre sur la rue du St Sacrement.

Au stop, traverse prudemment et rejoins la rue des colombes.

A l'intersection, emprunte la rue pommiers pour rejoindre ton point de départ.

Pour réaliser ce rallye, les enfants doivent obligatoirement être accompagnés d'un adulte. Le parcours vous fera, parfois, emprunter des routes à circulation et sans trottoir. Vous devez donc circuler de manière prudente sur le côté gauche de la chaussée pour voir et être vu. La CCHF ou l'OTI déclinera toute responsabilité en cas de problème.



Le saviez-vous??



Herzele

Origines du nom : Zeel indique l'existence d'une habitation d'une certaine importance, comportant plusieurs pièces. On peut traduire «Her» par chef (maître). Autrement dit, Herzeele signifie la maison du chef.

L'église Notre Dame de l'Assomption est de type hallekerque, formée de 3 vaisseaux de hauteurs et de largeurs voisines.

Orgues de mortier

Dans une salle d'environ 1000 m², avec une capacité de 300 places assises, se trouvent sur les murs trois ensembles d'orgues mécaniques exécutés en 1912, 1926 et 1939 par le facteur anversois Mortier. Ces orgues monumentaux fonctionnent comme des limonaires avec des cartons perforés mais avec une puissance, une mécanique et un répertoire plus élaborés. Les décorations sur fond beige sont constituées de dorures et d'angelots, ou plus vraisemblablement de belles coiffées à la mode garçonne.



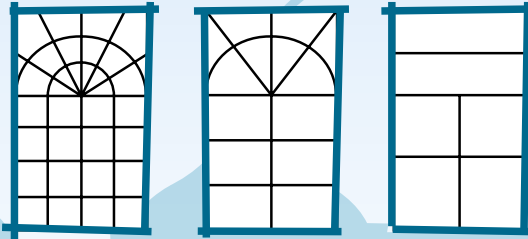
Le « petit train des Flandres » est né à la fin du XIXe siècle. Il a réalisé son premier parcours en 1894 et a été créé pour désenclaver le secteur mais attention ; il ne devait pas concurrencer les grandes lignes. Le convoi faisait plusieurs allers-retours par jour, transportait des voyageurs comme des marchandises, et s'arrêtait dans les gares des villages situés le long de la ligne. Épine dorsale pour le commerce de proximité et le transport des matières agricoles, il a cessé ses trajets en 1954.

Située au coeur de la Flandre, la réserve naturelle du vallon de la Petite Becque abrite une biodiversité remarquable et constitue l'un des témoins de paysages qui faisaient autrefois le charme des Houtlands. Elle est traversée dans sa longueur par un cours d'eau : la Petite Becque, affluent de l'Yser, à Herzele. Une mare, des prairies humides, quelques saules têtards et une haie délimitant la parcelle complètent le paysage typique de ce petit site d'un hectare.



✕ Départ de la place

1 Quelle forme ont les vitres de la mairie côté droit ? Entoure la bonne réponse.



Dos à la mairie, dirige-toi vers la droite et prends la rue de Bambecke.

2 Tu remarqueras que beaucoup de maisons à Herzelee ont des décorations (rectilignes) sur les façades, réalisées avec des couleurs différentes ? À ton avis, comment les nomme-t-on ? Entoure la bonne réponse et reporte la solution sur les tirets.



Une frase



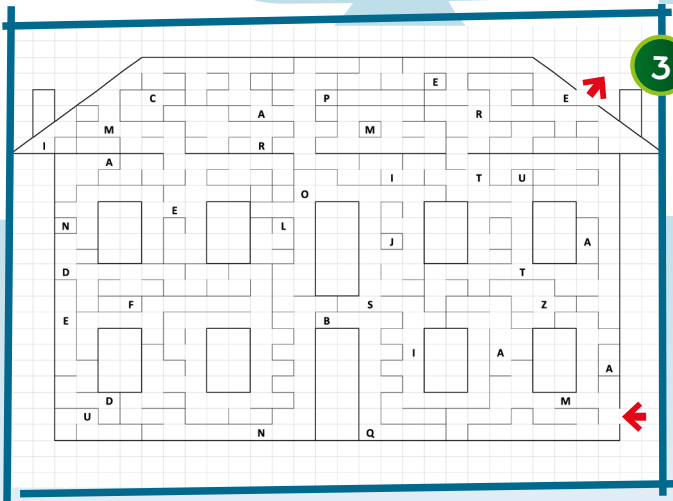
Une frèse



Une frise



3 La maison N°136 a une architecture plus imposante, signe que les propriétaires d'origine étaient riches. Aide Sarah à retrouver le nom exact de cette construction en suivant le chemin.



Tourne à droite sur la rue de la gare ...

4 À quoi servent les anneaux que tu aperçois sur le mur de la maison N°70 ? Entoure la bonne réponse.



À attacher des chameaux



À attacher des chevaux



À attacher des rennes

... et tourne à gauche sur la rue du petit train.

5 Les fenêtres des maisons flamandes ont toujours la même forme pour faire entrer la lumière le plus tôt possible dans la journée. Quelle forme ont-elles ? Entoure la bonne réponse.



Plus larges que hautes



Plus hautes que larges



Aussi larges que hautes

Tourne à droite rue d'Houtkerque.

6 Le village d'Herzelee est renommé dans toute la région. En effet, le dimanche après-midi, nombreux sont ceux qui viennent danser au son des 3 orgues Mortier, du nom de Théophile Mortier, (celui qui les a fabriqués). Il en reste très peu d'exemplaires et ce café est le seul à en posséder 3 au même endroit. Ils sont même inscrits aux Monuments Historiques ! Connais-tu le nom exact de celui qui fabrique des orgues ? Retrouve les lettres manquantes pour le découvrir.

L'orgue est un instrument à vent qui met en œuvre de nombreux instruments grâce à un système de soufflerie et d'engrenages très complexes, commandé par des cartons perforés.

On a plus l'habitude de voir des orgues dans des églises, de notre région plus particulièrement. En effet, si les églises, en Flandre possèdent ce patrimoine, elles le doivent au fait l'on trouvait ces artisans capables d'exécuter de magnifiques travaux d'ébénisterie.

Cependant, tous les buffets d'orgues (meubles qui accueillent les orgues) n'ont pu voir le jour que grâce à ces « fabricants d'orgues » car ils donnaient aux menuisiers les indications pour construire l'écrin de l'instrument.

F

7 La façade de la maison N°126 est colorée grâce aux briques utilisées pour faire les linteaux (dessus des fenêtres et porte). Quelle autre couleur a-t-on utilisée pour faire le dessin au-dessus de la porte ?



Poursuis à droite pour suivre la rue de la briqueterie.

8

Le charme, utilisé pour réaliser cette haie est une essence très commune dans notre région. Il a l'avantage de ne pas perdre ses feuilles : elles se flétrissent, se fanent mais ne se détachent pas. Résous cette charade pour connaître cette caractéristique.



Le canard aime nager dans mon premier.
Mon deuxième est la troisième lettre de l'alphabet.
Mon troisième circule dans tes veines
Mon tout est une caractéristique du feuillage du charme



9

Les briqueteries étaient nombreuses dans notre région : il ne fallait guère de matériel pour la faire fonctionner et le lieu n'avait pas beaucoup d'importance. En effet, un élément essentiel pour la fabrication des briques est omniprésent en Flandre sous quelques centimètres de terre arable que l'on a vite fait de décaper. Cependant, on ne pouvait pas utiliser une grande épaisseur : en dessous c'est rapidement une autre texture. Et si l'on avait trop baissé le niveau du champ, il n'aurait plus été cultivable par la suite. Mais quel est cet élément essentiel ? Remets les dessins dans l'ordre croissant pour le découvrir.



L



A



R



E



G



I



10

Si tu es observateur, tu remarqueras les restes d'une construction qui pourrait te faire croire qu'une civilisation d'un autre monde est venue à Herzelee. Avec quel matériau a-t-elle été construite ? Entoure la bonne réponse.



La brique



La pierre




La paille

Fais demi-tour.



- 11 Sur le mur de la briqueterie, l'appareillage des briques (c'est-à-dire la manière dont sont positionnées les briques pour confectionner des murs) est un appareillage anglo-flamand (le plus solide de tous). Observe bien, retrouve le bon modèle et entoure la bonne réponse.



À l'intersection, continue tout droit et emprunte la rue de la caserne des douanes.

- 12 Les maisons N°63 à 23 constituaient jadis une caserne de douanes puisqu'Herzelee se situe à moins de 5 km de la frontière à vol d'oiseau. Les douaniers avaient la mission d'empêcher la contrebande de produits tels que le tabac, café... Cette activité était tellement importante qu'il a été décidé de construire des logements pour accueillir les douaniers. Combien de logements a-t-on construit ? (indice : compte les lucarnes). Ecris le résultat en chiffre romain. ($1=I/5=V/10=X$)



Au carrefour, prends la rue d'Houtkerque à gauche.

- 13 Combien comptes-tu de losanges sur les murs de la maison N°194 ?

- 14 En quelle année a été construite la maison N°47 ?

Continue à gauche pour suivre la rue de Bambecque...

- 15 À quoi sert cette ouverture en-dessous des fenêtres de la maison en face du N°194 ? Entoure la(les) bonne(s) réponse(s).



Aérer la cave

Éclairer la cave

Rentrer dans la maison quand on a oublié sa clé

...et à droite pour aller dans la ruelle du presbytère.

- 16 Arrête-toi et observe la bâtisse en face du N°72, poursuis ton chemin et avant de descendre les marches, retourne-toi pour reporter sur les tirets le mot inscrit sur le toit (qui fait référence à une activité très importante jadis...).



Tourne à gauche sur la rue de la petite maison bleue.

- 17 La frise sur la façade de la maison N°88 est composée de rectangles ? Combien y en a-t-il ? Inscris la réponse en lettres.



Au bout de cette rue, pénètre dans le cimetière par l'entrée que tu verras sur la droite et ressors par la ruelle de l'église pour rejoindre la place.

- 18 Le nœud de sorcière est un symbole ancien qui représente la magie et la protection. Le nœud de sorcière est composé d'un cercle et de quatre boucles entrelacées, qui symbolisent l'unité, l'éternité, l'amour et le contrôle des éléments. Il peut servir à renforcer les intentions, à repousser les énergies négatives ou à créer un lien avec la nature. Entoure la forme exacte.



Dirige-toi à droite pour emprunter la ruelle du château.

- 19 Tu remarqueras que sur le haut du pignon (mur) de la maison N°47, il y a des triangles de couleur jaune. En fait, avant une modification de la toiture, celle-ci longeait ses triangles, qui ainsi, étaient perpendiculaires à la pente du toit. Cette manière de faire permettait que les briques en fin de ligne, ne s'effritent et fragilisent la construction. Mais comment s'appelle ce triangle. Remets les lettres dans le bon ordre pour le découvrir.



PIES



20

Comment s'appelle l'entrée du château d'Herzelee ?
Entoure la bonne réponse et reporte les lettres sur les tirets.



Un parche



Une perche



Un porche

_____ ■ _____

Au bout de cette ruelle (enherbée sur la fin), reprends la rue de la petite maison bleue par la gauche.

21

Le linteau, la partie supérieure de la porte de la maison N° 203 est formée de briques de différentes couleurs. Il y en a de couleur rouge et d'autres de couleur... Retrouve la bonne couleur, entoure la bonne réponse et reporte les lettres sur les tirets.



Anis



Bleu



Brun

_____ ■ _____



22

Comment nomme-t-on ce petit édifice ?
Entoure la bonne réponse et reporte les lettres sur les tirets.



un immeuble



une chapelle



un building

_____ ■ _____

23

La maison N°372 a gardé une petite construction sur son pignon gauche : un four.
Qu'y faisait-on cuire ? Résous ces devinettes pour le trouver.

La farine est son ingrédient de base.
un repas sans lui, n'est pas un repas.

_____ ■ _____

À l'intersection, tourne à gauche pour suivre la rue du St Sacrement.

24

La rangée d'arbustes qui sépare le champ et la route est composée d'aubépines, une essence locale. Ces plantations sont très importantes pour la nature car elles limitent les ravages du vent, absorbent l'eau des précipitations et offrent gîte et pitance aux oiseaux. Comment s'appellent ces plantations ? Entoure la bonne réponse.



Une haie



Une raie



Une taie

Au stop, continue toujours tout droit pour poursuivre sur la rue du St Sacrement.

25

La maison N°192 est typique de Flandre : on a monté un muret de briques sur lequel, on a construit une cage de bois que l'on consolidera soit avec du torchis, soit avec des briques. Sais-tu comment s'appelle cette cage de bois ?



il, elle, ??



26

Comme tu as pu le constater sur de nombreuses façades des maisons à Herzelee, ils sont typiquement flamands. Ils sont de couleurs vives et réalisés de manière traditionnelle : avec des tenons et des mortaises. (Ce sont des termes qui désignent 2 types de pièce de bois qui s'assemblent par emboîtement). De quoi s'agit-il ? Entoure la bonne réponse et reporte les lettres sur les tirets.



Volée



Voler



Volet

Au stop, traverse prudemment et rejoins la rue des colombes.

27

Retourne-toi. Que voit-on sur le mur de la maison N°404. Entoure la bonne réponse et reporte les lettres sur les tirets.



Des briques



Un lion des Flandre



Un arc de tir à l'arc



Reprends ton chemin.

28

Quelle statue est posée sur les pilastres (poteaux) de la maison n°413 ?
Entoure la bonne réponse.



Un ange



Un lion



Une rose



À l'intersection, emprunte la rue des Pommiers pour rejoindre ensuite ton point de départ.



29

Pour comprendre l'inscription gravée sur la poutre de ce puits, déchiffre ce code.

A B C D E F G H I J K L M N O P Q R S T U V W X Y Z
& # @ ! * \$ } ? = + □ ○ △ ◇ ◻ ◀ ▶ ☆ ✦ ◂ ◃ ◅ ◆ ◇ ◈ ◉ ◊

◀ = ! * ☆ △ * ◻ ✦ * ◀ * ✦ * ☆ * ! * ○ & ◂ * △ ◻ * ◂ * ! ☆ \$ * ☆
* ◂ * ! * ○ * & ☆
! & ◊ ◀ @ * ◊ ◂ & ◊ ◀ + * ◀ * ✦ & = * ◊ @ ◻ ✦ * ○ &

30 En reportant les lettres colorées, tu trouveras le nom de la variété de pommes que Docteur Heem a obtenue à Herzelee dans les années 1950 à partir de la Cox's, une pomme ancienne encore très cultivée.



31

Retrouve les mots dans la grille et tu découvriras une autre couleur.

M	J	O	U	T	R	E	M	E	R	P	B
I	A	R	G	E	N	T	R	O	S	E	R
V	U	U	I	C	O	B	A	L	T	S	O
O	N	E	V	I	O	L	E	T	S	I	N
I	E	L	E	E	E	A	P	B	G	O	Z
R	S	B	R	G	N	N	U	R	R	U	E
E	A	O	T	U	I	C	A	U	I	Q	A
H	U	G	F	O	R	E	T	N	S	R	U
C	M	I	O	R	A	N	G	E	T	U	Q
E	O	D	A	C	M	A	G	E	N	T	A
P	N	N	A	Y	C	H	E	N	O	I	R
B	E	I	G	E	E	R	P	R	U	O	P

AQUA	GRIS	PECHE
ARGENT	INDIGO	POURPRE
BEIGE	IVOIRE	ROSE
BLANC	JAUNE	ROUGE
BLEU	MAGENTA	SAUMON
BRONZE	MARINE	TAUPE
BRUN	MAUVE	TURQUOISE
COBALT	NOIR	VERT
CYAN	ORANGE	VIOLET
FORET	OUTREMER	

32

Colorie ce dessin !



33

Relie les expressions à leurs explications.

Aux pommes :

Être une bonne pomme :

Haut comme 3 pommes :

Tomber dans les pommes :

Une pomme de discorde :

- Un sujet de division entre des personnes

- S'évanouir

- Être trop bon, naïf

- De très petite taille

- Parfait, excellent

Découvre les solutions en scannant le QR code !

