

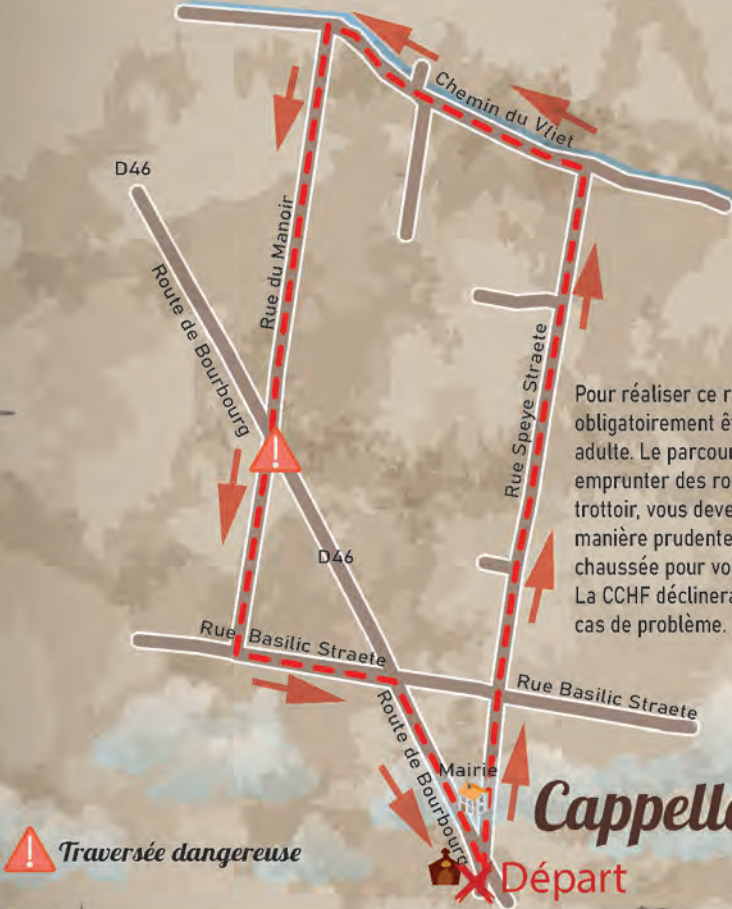
Hauts de Flandre

OFFICE DE TOURISME




Salut ! Je m'appelle Fred.
Aide-moi à répondre aux questions grâce aux
indices que tu trouveras en visitant le village.
Observe bien et pars à l'aventure !





Pour réaliser ce rallye, les enfants doivent obligatoirement être accompagnés d'un adulte. Le parcours vous fera, parfois, emprunter des routes à circulation et sans trottoir, vous devez donc circuler de manière prudente sur le côté gauche de la chaussée pour voir et être vu. La CCHF déclinera toute responsabilité en cas de problème.

 **Traversée dangereuse**

Départ

Cappelle-Brouck

Départ : Démarre le circuit par une visite du contour de l'église en entrant par le cimetière.

Dirige-toi ensuite vers la Mairie et prends à droite sur Speye Straete. Continue sur environ deux kilomètres pour arriver devant la sécherie de la Haute Planche.

Tourne à gauche pour suivre le Vliet, sur sa rive gauche en empruntant la rue du Vliet.

Tourne à gauche pour prendre le chemin de terre qui rejoindra la rue du manoir. Fais attention car tu devras traverser la départementale et poursuivre sur cette route du Manoir.

Tourne à gauche pour prendre la Basilic Straete et continue jusqu'à la départementale D46.

Traverse prudemment pour admirer la chapelle et longe cette route. Reste bien à gauche et tu rejoindras le centre du village et ton point de départ.

Le saviez vous ?

Cappelle Brouck : signifie chapelle des marais

Le village s'est développé autour de cette chapelle, bien vite devenue église à partir du XII^e siècle. C'est le Comte de Flandre, Charles le bon qui permettra la mise en valeur du marais en donnant en 1121 les terres à l'Abbaye de Bourbourg. Un autre Comte de Flandre, Philippe d'Alsace, de retour de croisade, donna des reliques de Saint-Jacques le Majeur (celui du pèlerinage de Saint Jacques de Compostelle) et suscita l'édification de l'église actuelle à la fin du XII^e siècle (une des seules églises de la région avec des restes romans).



Le pèlerinage de Saint-Jacques de Compostelle est à l'origine un itinéraire religieux pour toucher les reliques de l'un des douze apôtres de Jésus. Au Moyen-âge, le pèlerinage de Compostelle comptait parmi les trois grands pèlerinages de la Chrétienté, avec le grand pèlerinage de Rome et celui de Jérusalem. Il est devenu aujourd'hui une aventure humaine, spirituelle et religieuse.




La sécherie de chicorée : la culture de la chicorée à café s'est développée au XIX^e siècle à cause du blocus anglais qui empêchait l'arrivée du café d'Amérique durant le 1^{er} empire. On exploite les racines que l'on transforme : cette transformation passe par plusieurs étapes :

- La transformation en cossettes : les racines sont d'abord lavées puis tronçonnées en fines lamelles appelées cossettes.
- Le séchage ou la déshydratation des cossettes qui, commencé à l'air libre dans des hangars abrités, se termine au-dessus de fours chauffés.






Démarre le circuit par une visite du contour de l'église en entrant par le cimetière.

1. Observe bien les murs extérieurs de l'église. On y retrouve l'emblème du village. Lequel est-ce ? Entoure la bonne réponse.

-  Des clés croisées
-  Une tête de Lion
-  Un aigle

2. Quelle statue est érigée sous la grotte de Lourdes de Cappelle-Brouck ? Entoure la bonne réponse.

-  Saint-Martin
-  Un ange
-  La Sainte Vierge



Dirige-toi ensuite vers la Mairie et prends à droite. Continue sur environ deux kilomètres pour arriver devant la sècherie de la Haute Planche.

4. En Flandre Maritime, tu l'apercevras que beaucoup de bâtiments sont construits avec des briques jaunes. Selon toi, quel élément (dont on extrait la silice) colore la brique en jaune. Pour le savoir, retrouve l'anagramme du mot ci-dessous :

BLASE



3. Quelle année est inscrite sur la façade de la Mairie ?



5. Une des particularités des villages du territoire, c'est que la plupart ont conservé des noms de rues en flamand. Comment s'appelle celle qui débute à droite de la Mairie : remets les lettres dans le bon ordre :

Y P E S E



6. Au N° 1956 de la Speye Straete, des runes apparaissent sur le pignon.
Peux-tu les reproduire ci-dessous ?

7. Au N°1763, tu apercevras sur le mur de la maison deux cœurs et une petite chapelle de dimension restreinte. Pour retrouver le nom exact de cet édifice, résous ce rébus :



8. La rue qui croise celle que tu empruntes a un nom flamand. Saurais-tu me donner sa traduction française ?

Rue de la



9. Au N° 1636, selon toi, cette jolie petite maison abrite quel animal ?
Résous cette devinette.


Deux « habitantes » discutent :
- Comment vas-tu ma chère ?
- Pas très bien. Je crois que je couve quelque chose !



10. Au N° 1608, plusieurs statues sont implantées sur le devant de la maison.

On peut voir deux lions, emblèmes de la Flandre mais également d'autres statues.

Que représentent-elles ?

Des   -----

11. Comment s'appellent les grands arbres que tu aperçois devant toi ?
Résous cette charade et tu le découvriras :

Mon premier est le contraire de beaucoup.
Mon deuxième est synonyme d'habitude.
Mon troisième entoure de nombreux jardins.
Mon tout est un arbre à hautes tiges qui peuple nos campagnes.



12. Les Flamands sont ingénieux : quelle astuce ont trouvée les propriétaires des maisons dont le numéro est le 933 et 957 pour indiquer leur présence.
Entoure la bonne réponse.



Une plaque d'immatriculation



Une tuile



Un pot à lait




13. Une des cultures caractéristiques de la région est la culture de chicorée. Remplis les trous et tu en apprendras plus sur elle :


La chicorée appartient à la même famille que les margu- - - - - , les tourne- - - - -  et les pis- - - - - its , celle des « Astéracées », et elle a de nombreuses vertus thérapeutiques...



Sa production est concentrée dans les H- - - - - de F- - - - - .



On peut cultiver les chicorées « sa- - - - - s »  : la frisée, la scarole ou l'endive.

Il est possible également de cultiver les chicorées « racines », celles utilisées pour la boisson que l'on sèche dans des sècheries.

Sais-tu également que la chicorée sauvage produit une très belle fleur, qui lui vaut le joli nom de « fiancée du - - - - - e - - - - - ». 

En effet, elle est héliotrope, c'est-à-dire que sa couleur évolue selon les heures de la journée : bl- - - - -  le matin, elle pâlit dans la journée pour se refermer bla- - - - -  le soir.

C'est ainsi que les anciens en firent l'emblème de la fidélité.

Ancien légume, la chicorée a longtemps été reconnue pour ses vertus thérapeutiques.

Elle est considérée comme une plante nettoyante.




Légerement laxative, elle était utilisée pour pallier les troubles d'indigestion.

14. Comment s'appelle le lieu-dit où existait le séchoir à chicorée qui servait à sécher la chicorée ?

Tourne à gauche pour suivre le Vliet, sur sa rive gauche en empruntant la rue du Vliet.



15. De l'autre côté du Vliet, tu apercevras un trou en haut de la maison au pignon blanc. Selon toi, à quoi sert-il ? Entoure la bonne réponse.

-  Aérer le grenier
-  Éclairer le grenier
-  Se débarrasser des nuisibles (grâce aux chouettes)



Tourne à gauche pour prendre le chemin de terre qui rejoindra la rue du manoir.

17. Tu te promènes au milieu de la campagne. Saurais-tu citer plusieurs sortes de céréales cultivées dans ces champs ?

16. Sur ta droite, tu peux voir une grange. Ses murs sont typiques : une assise (bas) en briques prolongée sur la hauteur par une construction dite à clin (les planches utilisées se recouvrent et se chevauchent, comme les ardoises d'un toit). Selon toi, quel matériau est utilisé ?

18. Résous cette charade pour retrouver le nom de cet arbre.

- Les Anglais raffolent de mon 1^{er} à 5h.
- Mon 2^{ème} est le contraire de tôt.

Arbre -----



19. Combien d'arrosoirs sont exposés devant le N° 352 ? Entoure la bonne réponse

-  0
-  2
-  3



Fais attention car tu devras traverser la Départementale et poursuivre sur cette route du Manoir.



24. Qu'est-ce qui est représenté sur le mur de la salle des fêtes ? Déchiffre ce code.




A B C D E F G H I J K L M N O P Q R S T U V W X Y
 & # ! @ \$ % = + □ ○ △ ⇒ ↑ 👁 📺 ★ ✂ Ⓜ 🔦 🗺 🚲

25. À ton avis, quelle est la date de construction de la maison au N°2688 ?




Aide Fred à récolter la chicorée pour avoir un bon café.



En reportant les lettres colorées, devinées au fil de cette aventure, tu trouveras ce que le pèlerin, rapportait avec lui lorsqu'il revenait de Saint-Jacques de Compostelle.



- 1
- 2
- 3
- 4
- 5
- 6
- 7



Reporte les couleurs dans le dessin selon les numéros.



Les céréales



Reporte les noms
de ces céréales
dans les cases.

Amidon
Avoine
Blé
Boulghour
Bouillie
Cerveoise
Épeautre
Épi
Farine
Flocon
Froment
Gluten
Graine
Gruau
Maïs
Malt
Millet
Mout
Orge
Quinoa
Riz
Sarrasin
Seigle
Semoule
Sésame
Son
Sorgho

Découvre la solution
en scannant le QR code !

