



Salut ! Je m'appelle **Maiwenn**.

Aide-moi à répondre aux questions grâce aux indices que tu trouveras en visitant le village.
Observe bien et pars à l'**aventure** !



Le parcours :

Wylder
2,4km



A 25


 **Départ :** Parking de l'église.

Fais le tour de l'église en contournant par la gauche. Emprunte ensuite la route de Quaedypre en tournant à gauche. À l'intersection, prends à gauche la Brabant Mulle Straete. Au carrefour, tourne à gauche sur le chemin du pavé de Cassel.

Tourne ensuite à gauche sur la rue de la place de Wylder que tu poursuivras par la droite.

Continue ensuite sur la SteeneStraete jusqu'au chemin piétonnier que tu emprunteras à gauche après la maison N°63 et tu rejoindras ton point de départ.

Pour réaliser ce rallye, les enfants doivent obligatoirement être accompagnés d'un adulte. Le parcours vous fera, parfois, emprunter des routes à circulation et sans trottoir. Vous devez donc circuler de manière prudente sur le côté gauche de la chaussée pour voir et être vu. La CCFH ou l'OTI déclinera toute responsabilité en cas de problème.



Le saviez-vous??

Wylder tire sa signification du mot Villaré, c'est-à-dire une ferme, un domaine d'exploitation.

Le village est situé sur la voie romaine, à égale distance de Cassel et de Zuydcoote, qui était alors un point maritime important lors de l'invasion des Romains.



Tout porte à croire que l'emplacement du village servait d'étape militaire et commerciale pour les légions romaines (armées) qui devaient faire halte dans des endroits protégés. Elles y trouvaient le repos, de l'eau potable et de la nourriture. On a retrouvé beaucoup de fers à cheval qui témoignent de leur présence.



L'église Saint Martin date de 1829. Elle a été reconstruite sur les ruines de l'ancienne, détruite lors d'un incendie en 1795.

La chapelle de la Légion d'honneur : Cette chapelle a été rebaptisée lorsque le Colonel de Brenne, reconnaissant de la protection dont la Vierge l'avait favorisé (il est revenu des combats sain et sauf), a fait don de sa légion d'honneur (une haute décoration), gagnée lors d'une bataille.



✕ Départ : Fais le tour de l'église en contournant par la gauche.

1

À ton avis, à quoi sert cette barre en métal à gauche de la porte de l'église ? Entoure la bonne réponse.



Un porte-parapluie pour laisser sécher les parapluies dehors



Un décrotoir pour enlever les saletés des chaussures



Un anneau pour attacher les anti-vols

2

Reporte les mots inscrits sur le panneau jaune qui signifie « ancienne école » au N° 111 contour de l'église.



Emprunte ensuite la route de Quaëdypre en tournant à gauche.

3

Retrouve la date inscrite sur le pignon de la mairie.



4

Reporte le mot inscrit sur le panneau jaune (qui signifie « maison de l'école ») sur le mur de la mairie.



5

Reporte le mot flamand (qui signifie maison communale) inscrit sur la plaque de bois.



À l'intersection, prends à gauche la Brabant Mulle Straete.

10 Quels éléments se trouvent sur le blason de Wylder ?
Entoure la bonne réponse.



5 cors de chasse



5 merlettes



5 lions

11 Tu remarqueras que les pommiers du verger sont plantés d'une certaine manière : des tuteurs qui sont plantés tout le long des rangs de plantation sont suffisamment solides et nombreux pour porter le poids de la récolte, mais aussi les vents violents, la neige, le g... Justement, en parlant de vent, il a soufflé tellement fort qu'il a emporté les voyelles du nom de cette technique. Reporte les lettres manquantes pour connaître cette technique.

→ P L ■ S S G

12 Quelle date est inscrite sur la chapelle ?

→ _____

14 Quelle forme a la girouette de l'église ?
Entoure la bonne réponse.



Une vache



Un voyageur



Un coq

13 Quel arbre fruitier a-t-on utilisé pour constituer une haie ?
Entoure la bonne réponse.



L'arachide
pour ses
cacahuètes



Le noisetier
pour ses
noisettes



Le manguier
pour ses
mangues

15 Retrouve des cultures possibles sur ces terres agricoles en t'aidant des dessins.

B _ _ _
M _ _ _
A V _ _ _
■ T _ _ _ A V E
L _ _ _



16

Combien de côtés a le pilastre au N° 64 ?
Entoure le bon chiffre romain en sachant que I=1 V=5 X=10.



I



V



X

17

Retrouve la traduction du panneau jaune en déchiffrant ce code.

A B C D E F G H I J K L M N O P Q R S T U V W X Y Z
& # @ ! * \$ } ? = + □ ○ △ ◇ ◻ ◀ ▶ ☆ ✦ ◂ ▸ ♥ ♣

♥ = * ☆ △ △ ◻ ☆ ○ = ◇



Au carrefour, tourne à gauche sur le chemin du pavé de Cassel.

18

De quelle couleur sont les briques utilisées pour dessiner les dessins runiques de la maison N°275 ?




19

Sous le pont passe un affluent de l'Yser qui se nomme CRAY BECQUE. Si « becque » signifie ruisseau, que signifie « CRAY » ? Aide Maiwenn à joindre le centre du labyrinthe et tu le découvriras.

→ R U I S S E A U

D U



20

Le chemin du pavé de Cassel est bordé d'une haie d'arbustes et si tu regardes à droite tu en verras une autre, sinueuse, qui épouse les courbes du ruisseau. Au-delà d'une jolie vue dans nos campagnes, ces haies ont un rôle important. Ce schéma t'explique ses atouts, mais des lettres manquent. Retrouve-les pour connaître l'essence principale qui compose nos haies champêtres. Aide-toi des couleurs pour mettre les lettres à la bonne place.

L'e__u qui tombe sur le feuillage et les branches met plus de temps à arriver dans les cours d'eau

L'effet "brise-vent" ralentit l'évaporation de l'ea__ et limite l'envolée des particules fines

Formation d'humus = __ienfait pour un sol enrichi

Grâce à ses racines, stabilisation des bords de rivières et des rout__s

Les racines __ermettent l'infiltration de l'eau dans le sol

Réduction de la v__tesse de l'eau qui s'écoule en surface

Alime__tation des nappes phréatiques permettant le "stockage de l'eau"

Les racin__s absorbent des éléments minéraux (azote, phosphore...) pour se nourrir



Tourne ensuite à gauche sur la rue de la place de Wylder que tu poursuivras par la droite au niveau de la place.

21

Dessine le dessin runique que tu aperçois sur le pignon de la maison N°12.



22

Que signifie « OUDE SMISSE » ?
Résous cette charade pour le découvrir.

Mon premier dure 12 mois
On utilise mon deuxième pour couper du bois
Mon troisième est la quatorzième lettre de l'alphabet
Mon quatrième se fait avec des lacets
Mon cinquième est le château des chevaliers
Mon sixième permet de s'amuser en société



23

Les maisons flamandes sont très coquettes comme tu peux le voir avec la maison N°93. (La façade est particulièrement belle). Mais selon toi, pourquoi a-t-on construit des trottoirs le long des maisons ? Retrouve la ou les bonnes réponses.



Utiliser les briques invendables
(brûlées, déformées par la chaleur
mais extrêmement dures, résistantes)



Ne pas salir ses
chaussures



Pour border
l'ancienne voie
romaine

24

La façade de la maison N°281 a une jolie frise qui reprend certains signes des jeux de cartes. Entoure ceux que tu aperçois.



Coeur



Carreau



Pique



Trèfle

25

Voici un autre panneau flamand. Résous l'énigme pour découvrir sa signification.
Petit rappel, « oudde » signifie « ancienne ».

C'est un commerce.
On y utilise la farine.
On y fabrique du pain et des gâteaux.
Qui suis-je ?



26

Voici une autre haie d'arbustes très communs en Flandre. En effet, tu peux trouver cette essence en arbustes mais aussi en arbres ! Résous cette devinette et entoure la bonne réponse pour trouver leur nom.

C'est un arbre sous lequel tout le monde peut tomber !



Bouleau



Charme



Saule



Continue ensuite sur la Steene Straete jusqu'au chemin piétonnier que tu emprunteras à gauche après la maison n°63 et tu rejoindras ton point de départ.

27

Tu marches peut-être sur les traces de Jules César ! En effet, au début de notre millénaire, il a fait construire 7 routes qui partent de la ville de Cassel, (chef-lieu des Romains de l'époque) pour aller dans toutes les directions ! Celle sur laquelle tu te trouves rejoint la mer. Ces routes sont appelées « voies romaines ». À l'aide de quel matériau, a-t-on construit ces routes ? Relie le mot « steene » aux lettres pour le découvrir et connaître ainsi sa traduction.



S T E E N E
 R E P I E R



28

En quelle année a été construite la maison N°46 ?



29

Quelle lettre retrouves-tu sur un pignon de maison ? Entoure la bonne réponse.



V



W



F


30

En reportant les lettres colorées, devinées au fil de cette aventure, tu trouveras le nom d'un lieu-dit de Wylder, où se rassemblaient les troupes militaires pour y trouver repos et pitance.



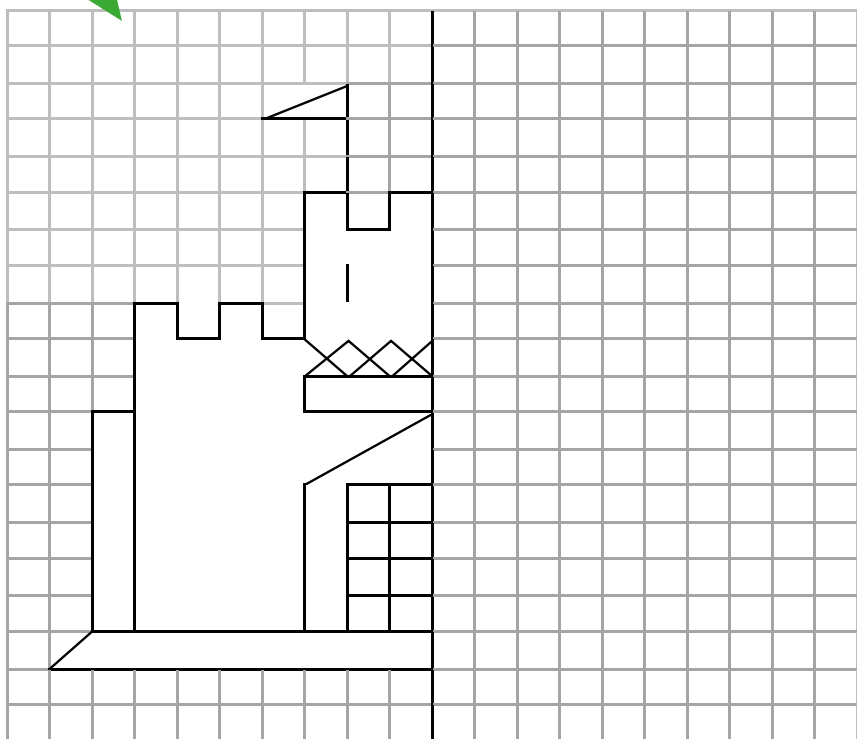
31

7 erreurs se sont glissées dans le dessin de droite, aide Maiwenn à les retrouver !



32

Reproduis l'autre moitié du château.



33

Colorie Maïwenn notre aventurière !



Découvre les solutions
en scannant le QR code !

