

Hauts de Flandre

OFFICE DE TOURISME



Salut ! Je m'appelle **Gaston**.
Aide-moi à répondre aux questions grâce aux
indices que tu trouveras en visitant le village.
Observe bien et pars à **l'aventure !**



Le parcours :



Départ : Dos à l'église, dirige-toi à droite sur la rue de la Mairie.

Au croisement, prends à gauche la rue des tilleuls que tu poursuivras jusqu'à la Yper Straete que tu trouveras en tournant à droite.

Après le n° 275, emprunte le chemin en cailloux à droite qui t'amènera à la Meulen Straete.

Tourne à droite sur la rue des charmes.

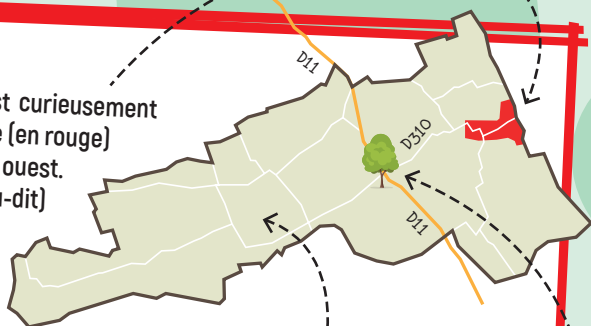
Arrivé sur la Place, va tout droit sur la Keurs Straete. Dépasse l'église et contourne par un chemin qui te ramènera à ton point de départ.




!!!
Pour réaliser ce rallye, les enfants doivent obligatoirement être accompagnés d'un adulte. Le parcours vous fera, parfois, emprunter des routes à circulation et sans trottoir. Vous devez donc circuler de manière prudente sur le côté gauche de la chaussée pour voir et être vu. La CCFH déclinera toute responsabilité en cas de problème.

Le saviez-vous??

Le centre du village d'Eringhem est curieusement situé à l'extrême est de la commune (en rouge) qui s'étend tout en longueur d'est en ouest. On appelle l'ouest de cette partie (lieu-dit) le "Nieuwland".



Le Nieuwland que l'on peut traduire par « nouvelle terre » est appelé ainsi car c'est un ensemble de terrains neufs (puisqu'ils ont été conquis sur la mer au XI^e siècle). Le site a l'apparence d'une langue de terre basse qui pénètre dans le Houtland (pays du bois) plus élevé. On considère que la limite de la Flandre intérieure et de la Flandre maritime se situe à une altitude de 5 m, les terres en-dessous de 5 m étant inondables lors des grandes marées. Le Nieuwland est sous cette ligne des 5 m.



Une motte castrale a été construite dans le Nieuwland. Qui dit motte castrale dit Seigneur. Et au XIII^e siècle, un des Seigneurs propriétaires donna une partie du domaine pour y implanter l'abbaye Willelmite. Mais parce que le secteur est trop menacé par les guerres, les inondations, l'abbaye est transférée dans une autre commune.

Il existait jadis un très gros tilleul qui indiquait la frontière des châtellenies de Bergues, de Bourbourg et de Cassel. Le Lieu-dit « le tilleul » se situe, aujourd'hui, à l'intersection de la D11 et de la D310.





Départ : Parking de la Place.
 Dos à l'église, dirige-toi à droite sur la rue de la Mairie.

1

Combien y a-t-il de croix sur les murets à l'entrée de l'église ?

Entoure la bonne réponse



En quelle année a été construite la salle des fêtes ?



2



2



6



4

3

Qu'est-ce qu'une motte castrale ?

Aide-toi des dessins et du panneau d'informations pour compléter les trous



Les mottes castrales, édifiées dans toute l'Europe dès le X^e siècle apparaissent en Flandres dès 1050.

Au X^e siècle, l'aristocratie se sépare de son ____, incapable d'assurer la sécurité des populations. Ainsi, naît la féodalité. Des guerres internes au royaume éclatent entre les nobles qui se disputent la moindre parcelle de terre. Afin de se protéger, ils vont bâtir de nouveaux types d'habitats fortifiés dont les _____, marqueur de l'autorité du nouveau Seigneur, très rapides à construire. Plus tard, remplacées par des donjons en pierre, elles disparaissent dès le XIII^e siècle. Certaines serviront de base aux futurs châteaux forts.


Les mottes castrales sont toutes construites sur le même modèle : une motte conique de 20 à 100 m de diamètre à la base, va supporter une tour en _____ qui servira du tour de guet, de cellier, d'habitat, de prison...

Une basse-cour (bayle) accueillait les bâtiments nécessaires à la vie du seigneur. Des passerelles en bois permettaient de franchir des fossés circulaires disposés autour du complexe motte/basse-cour et/ou autour de la motte. La défense était renforcée par des palissades en bois autour de la motte et/ou de la basse-cour.



Au croisement, prends à gauche la rue des tilleuls que tu poursuivras jusqu'à la Yper Straete que tu trouveras en tournant à droite.

4 Peux-tu dessiner les formes que tu vois sur la façade au N°65 ?



5 Peux-tu retrouver le N° de maison où tu peux apercevoir un cœur ?



6 Combien y a-t-il de décoration sur la façade de la maison au N° 323 ?

Entoure la bonne réponse (indice $I=1/V=5/X=10$)



V



VII



XI



7

Comment s'appelle la finition du mur du garage de la maison N° 367 ?

Résous cette charade pour le découvrir

Mon premier complète le « ne » dans une phrase négative.
 Mon second est la moitié de quatre.
 Mon troisième habite dans un monastère.
 Mon quatrième sort du robinet.
 Mon tout est une technique de construction

8

Qu'a-t-on utilisé pour décorer les pilastres (poteaux) de la maison N°401 ?

Entoure la bonne réponse



des dés



des coqs




des lions

9

Sur le muret de l'école, l'appareillage des briques, c'est-à-dire la manière dont sont positionnées les briques pour confectionner des murs est un appareillage anglo-flamand (le plus solide de tous).


Observe bien et entoure le bon modèle



10

Comment s'appelle ce petit édifice enfoui sous les arbres ?

Entoure la bonne réponse



une coupelle



une chapelle



un tractopelle



11

Au N° 587, 2 éléments ornent la façade. Comment s'appellent-ils ?

Les lettres ont été mélangées. Peux-tu les remettre dans le bon ordre ?

E M O P S P A A U E
■ S _ _ _

12

Le pignon (mur) de la maison N°781 abrite la statue de la Sainte Vierge.

Remets les lettres dans le bon ordre pour connaître le nom de son « écrin »

C H I N E
_ _ _ ■



13

Que signifie YPER STRAETE ?

Déchiffre ce code pour le savoir



A B C D E F G H I J K L M N O P Q R S T U V W X Y Z
& # @ ! * \$ } ? = + □ ○ △ ◇ ◻ ☆ ↺ ↻ ↷ ↸

☆ ☆ * ! * ↺ ↻ = ○ ○ * ☆ ○ ↺

_ _ _ ■ _ _ _



14

Sur ta gauche, tu aperçois des haies de grands arbres. Le vent a soufflé des voyelles !

Replace-les pour comprendre son origine

L'histoire de la haie est souvent née de la forêt. On sait que nombre d'entre elles ne sont ni plus ni moins que des forêts relictuelles, c'est-à-dire des restes d'un bois défriché dont on a gardé qu'un alignement d'arbres et d'arbustes pour créer une limite.

Après le N° 275, emprunte le chemin en cailloux à droite qui t'amènera à la Meulen Straete.

15

Que peux-tu voir au loin ?

Entoure la ou les bonnes réponses



1 clocher



1 château d'eau



1 beffroi



1 moulin



2 clochers



2 châteaux d'eau



16

Comment appelle-t-on une maison recouverte de chaume ?

- Une chaudronnière
- une chaumière
- une chaudière

17

Quel dessin est représenté sur le pignon de la maison N°149 ?

Entoure la bonne réponse



18



Quelle est l'inscription sur la chapelle ?





Tourne à droite sur la rue des charmes.

19

Combien de fers d'ancrage y-a-t-il sur le pignon de la maison N° 101 ?
Les fers d'ancrage permettent d'éviter l'écartement des murs.
Ce sont les extrémités d'une barre

Entoure la bonne réponse



10




12



15

20

Quel dessin est reproduit sur le pignon de la maison N°2 ?



Arrivé sur la Place, va tout droit sur la Keurs Straete.

21

Qu'a -t-on construit avec des briques au N° 76 ?

Entoure la bonne réponse



Un four à pain



Un encadrement de portillon




Une niche à chien




22

La grille du cimetière est encadrée par des piliers très remarquables par leurs formes, signe que le lieu est prestigieux. Mais connais-tu leur nom exact ?

Résous ce rébus pour le trouver



tr'



_____ S





Dépasse l'église et contourne-la par un chemin qui te ramènera à ton point de départ.

23

On a utilisé une espèce d'arbustes locale pour clôturer le cimetière.

Aide-toi de sa traduction flamande pour retrouver le mot français

H A E G H E D O O R N
* * * *



U B P I ■

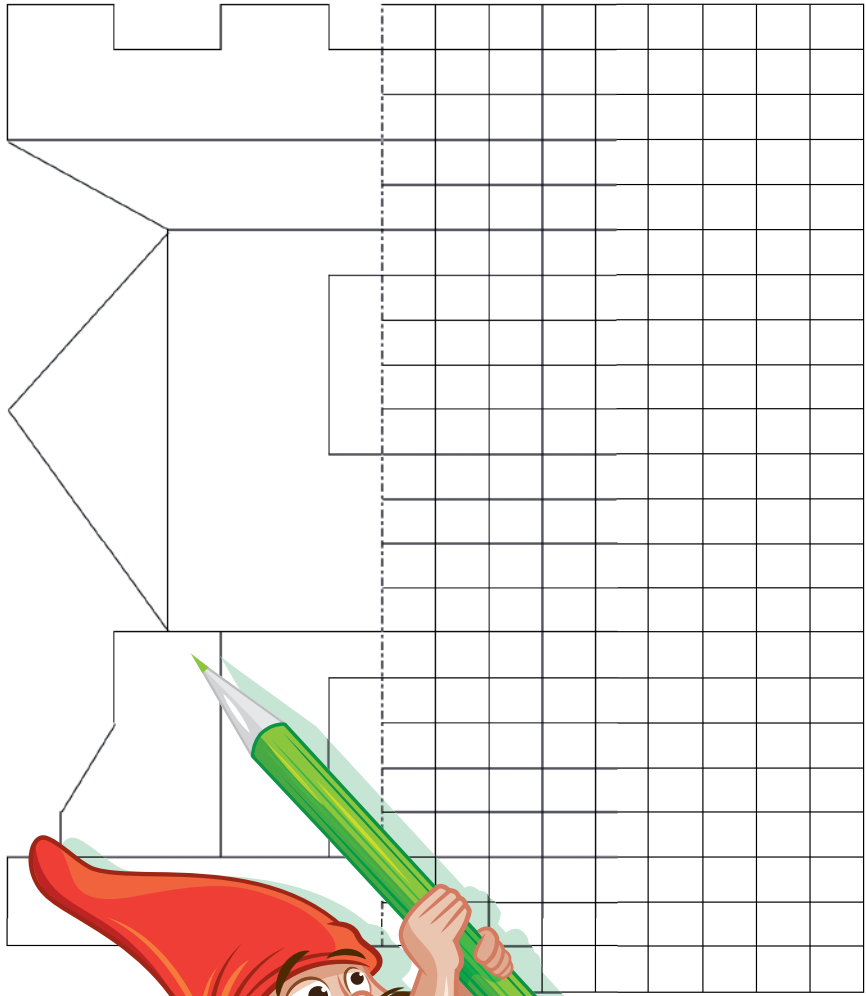
24

En reportant les lettres colorées, tu trouveras comment on appelait ces nouvelles terres conquises par la mer.



25

Trace l'autre partie de la tour



26 Mots mêlés

Retrouve les mots inscrits dans tous les sens et raye chaque mot dans la liste

C H G

S W F O S X C C G

R G E E D E T F Z E F E G

D B P N O N I K K A Z S I C T P S

O P X R D A G J O R A I R Z X L U T M

E B W F A H N X X C C C I G C B F G O V H

Q X A L Y E B R E U O V H H R O U U J P

M T L C T U C O M G E T O R T E Y

V O W L R A N R B V G U B A P M T

E P N Z E L S I S C A J A I G X T P C D G N M A I

M N B V C Q L F L T L L T F F F P N D U J U O J T

U W E T U A Y O L L E I T H V G L P Y I C J H Z O

A A K U E R U M R A R E H A G S S Z J F U X C L R U W

R E I L C U O B C I S A B N G F E N D K D G F I U R P

V H K D I C C E I D C P T K J I A M B V I S T A N N

W N D K Y P I U E R U O V A R B B P Y V N X O

X D Z A P N P B O I U B D Z L O C S E O I

X L U J L O F M H O N N E U R G E P G U H

F O I S C Z Q K O J

A E D T B S W Q V G R D

N W S D R M Y R N V Z I C Y P U O H S X M

S E N J L M H K V M Y Z N R N N H V I V O

J S V O N M M E L P K H G O H W F R N

B N F Z N T Y N E E V S G V P S B

Q Z W F I E F P R E U X G

C Y K G G E C E J

W W E

- ARMOIRE
- ARMURE
- BATAILLE
- BOULIER
- BRAVURE
- CHEVALERIE
- COMBATTANT
- EPEE
- FEODAL
- FIEF
- GENTILHOMME
- HEAUME
- HONNEUR
- JOUTE
- LANCE
- LOYAUTE
- PREUX
- SEIGNEUR
- TOUR
- TOURNOI

27 Devinette !



Les chattes font leurs câlines
 Quand elles veulent mon premier.
 On fait des chemises fines
 Au moyen de mon dernier.
 Mon tout a, cher lecteur, des ailes en partage
 Et, sans être marin,
 Il aime quand le vent fait rage
 Et ne craint pas du tout le grain.

Découvre les solutions en scannant le QR code !



Enquête N°11 de l'Office de Tourisme Intercommunal des Hauts de Flandre
 Directeurs de publication : André Figoureux, Maryse Leprovost
 Directrice de l'Office de Tourisme : Virginie Witkowski
 Conception du rallye : Maryline Regnard
 Conception graphique - Illustration : @Destyle.fr
 Crédit photos CCHF, Adobe stocks et OTI
 Impression : Pacaud

